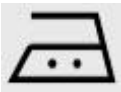


Fachpraktiker/in Hauswirtschaft
Beispiele zur schriftlichen Abschlussprüfung Teil 1
Textilreinigung und Service

1. Wie bereiten Sie im Privathaushalt Wäsche zum Waschen vor?
(4 Antworten)

2. Was bedeuten folgende Pflegesymbole?



3. Was beachten Sie bei der Aufbewahrung von Schmutzwäsche? (2 Antworten)

4. Nennen Sie Wäsche, die bei folgenden Temperaturen gewaschen wird.
(je eine Antwort)

60°C

90°C

30°C

5. Wie wird die Füllmenge einer Waschmaschine angegeben?

- in Litern
- in kg Trockengewicht
- in Anzahl der Wäschestücke
- in kg Nassgewicht

6. Für einen Kochwaschgang werden 160 g Waschmittel benötigt.
Für wie viele Maschinen reichen ein 12 kg Waschmittel?

7. Welche Reinigungsarbeiten führen Sie an der Waschmaschine durch? (3 Antworten)

8. Welche Reinigungsarbeiten führen Sie am Wäschetrockner durch? (3 Antworten)

9. Nennen Sie 2 Arten von Wäschetrockner.

10. Für die Wäscherei wird ein neuer Wäschetrockner angeschafft. Der Preis beträgt 648 €. Die Rechnung wird in 12 Monatsraten bezahlt. Wie hoch ist die monatliche Rate?

11. Was sind pflanzliche Fasern?

- Acetat und Leinen
- Leinen und Baumwolle
- Viskose und Wolle
- Seide und Baumwolle

12. Nennen Sie 3 Regeln beim Bügeln von Hand.

13. Eigenschaften von Baumwolle

- darf nicht heiß gebügelt werden
- filzt
- saugfähig
- knittert nicht

14. Das Einnähen eines Namensschildes kostet 0,49 €. Im Seniorenheim hat jemand 25 Teile zu kennzeichnen. Wie hoch ist die Rechnung?

15. Aus welcher Faser sind Geschirrtücher hergestellt?

- Acetat
- Seide
- Baumwolle
- Wolle

16. Nennen Sie 3 Hygieneregeln im Wäschebereich.

17. Nach welchen Kriterien sortieren Sie Schmutzwäsche? (2 Antworten)

18. Welche Arbeiten erledigen Sie im „reinen“ und „unreinen“ Bereich? (je 1 Beispiel)

reiner Bereich	
unreiner Bereich	

19. Nennen Sie 3 Tätigkeiten, die in der Wäscherei auf der „reinen Seite“ zu erledigen sind.

20. Warum ist der Wäschebereich in einen „reinen“ und „unreinen“ Bereich eingeteilt? (1 Antwort).

21. Geben Sie 2 Wäschestücke an, die bei 95 °C (Kochwäsche) gewaschen werden können.

22. Wie wird die Füllmenge einer Waschmaschine angegeben?

in Litern

in kg Trockengewicht

in Anzahl der Wäschestücke

in kg Nassgewicht

23. Eine gewerbliche Waschmaschine hat ein Fassungsvermögen von 24 kg Wäsche. Es werden 192 kg Wäsche zum Waschen angeliefert.

a) Wie viele Waschgänge werden benötigt?

b) 1kg Wäsche kostet zum Waschen 1,50 €. Wie viel kostet die gesamte Wäsche zum Waschen?

24. Warum sollte auf Weichspüler verzichtet werden?
(1 Antwort)

25. Nennen Sie 3 Geräte zum Glätten von Wäsche.

26. Welche Textilien werden gemangelt?

Textilien aus Frottee

Tischwäsche

Unterwäsche


Pullover

27. Wie kann ein gutes Bügelergebnis erreicht werden?
(2 Antworten)

28. Ihr Ausbildungsbetrieb bestellt Arbeitskleidung im Wert von 800 €. Der Großhändler gibt einen Preisnachlass von 20 %.

Wie viel kostet die Arbeitskleidung?

29. Beschriften Sie die Pflegekennzeichen.



30. Mit welchem Waschmittel waschen Sie folgende Wäschestücke?

Ordnen Sie richtig zu.

Gardinen, weiße Kochschürzen, farbige Blusen

Vollwaschmittel
Buntwaschmittel
Spezialwaschmittel

31. Nennen Sie 2 Möglichkeiten, wie Sie beim Waschen die Umwelt schonen können.

32. Folgende Wäsche soll gewaschen werden:

2 Bettbezüge je 650 g

5 Duschtücher je 600 g


Wie viel wiegt die Wäsche insgesamt in kg?

33. Nennen Sie 2 Wäschestücke, die als Flachwäsche bezeichnet werden.

34. Ordnen Sie die Fasern den Bügeleisensymbolen zu.

Baumwolle/Leinen; Chemiefasern: Perlon/Nylon;

Seide/Wolle.



35. Wie wird Bügelwäsche sortiert?

nach Größe

nach Preis

nach Bügeltemperatur

nach Farbe

36. Nennen Sie 2 Regeln beim Mangeln von Bettwäsche.

37. Für ein Seniorenheim werden 35 Tischdecken gemangelt.

Der Gesamtpreis beträgt 45,50 €.

Wie hoch ist der Preis für eine Tischdecke?

38. Welche Vorteile hat eine Bügelstation? (2 Antworten)

39. Welche Transportmittel können zum Verteilen der Wäsche eingesetzt werden? (2 Antworten)